



# 2 КЛАС



6 грудня 2013 року  
Міжнародний математичний конкурс "Кенгуру"  
Всеукраїнський етап

Любий друже! Пам'ятай:

- \* за кожен задачу можна отримати від трьох до п'яти балів;
- \* за неправильну відповідь бали не знімаються;
- \* серед запропонованих варіантів відповідей є лише один правильний;
- \* користуватись калькулятором, математичними довідниками чи іншою допоміжною літературою категорично заборонено;
- \* термін виконання завдань – 60 хв.

Будь уважним! Тобі під силу віднайти всі правильні відповіді!  
Часу обмаль, тож поспішай! Бажаємо успіху!

## Завдання 1 – 5 оцінюються трьома балами

1

На скільки більше кубиків є у Ласунчика, ніж у Веселуна?

Ласунчик



Веселун



А: на 1    Б: на 2    В: на 3    Г: на 4    Д: на 5

2

Рамку якої форми не використано для фотографій?



А:



Б:



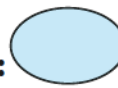
В:



Г:



Д:



3

Скільки стрибків до мами запланував зробити Хитрун?



А: 13

Б: 12

В: 11

Г: 10

Д: 9

2013-2014 н.р.

**4**

На дереві сиділо три ворони, три коти, дві синички та Івасик. Скільки птахів сиділо на дереві?



А: 9

Б: 8

В: 5

Г: 3

Д: 2

**5**

У кого з малят-кенгурят правильно показано вагу кошика з яблуками?



А:  $17+2$  кг  
Красунчик



Б:  $28-15$  кг  
Ласунчик



В:  $13+7$  кг  
Мудрагелик



Г:  $13+2$  кг  
Веселун



Д:  $17+5$  кг  
Хитрун

### Завдання 6 – 10 оцінюються чотирма балами

**6**

Мудрагелик та Хитрун закрили собою різні числа у правильній рівності. Хитрун закрив більше число. Яке з чисел наведених у відповідях закрив Мудрагелик?

4	+		+		=	7
		Мудрагелик		Хитрун		

А: 5

Б: 4

В: 3

Г: 2

Д: 1

**7**

Яку тінь від кенгурятка, зображеного праворуч, побачать діти на стіні?

А:



Б:



В:



Г:



Д:



**8** У танцювальному гуртку займалися п'ятнадцять хлопчиків і чотирнадцять дівчаток. Скільки всього дівчаток займалися у цьому гуртку після того, як до гуртка записалися Маринка, Івасик і Тетянка?



**А:** 32    **Б:** 29    **В:** 17    **Г:** 16    **Д:** 14

**9** З яких фігурок, запропонованих у відповідях, можна скласти будиночок, зображений праворуч?



**А:**    **Б:**

**В:**    **Г:**    **Д:**

**10** У книжці є два оповідання. У першому оповіданні 11 сторінок тексту та 3 сторінки малюнків, у другому – 12 сторінок тексту та 4 сторінки малюнків. Скільки всього сторінок займають ці два оповідання?



**А:** 32    **Б:** 30    **В:** 27    **Г:** 26    **Д:** 23


**Завдання 11 – 15 оцінюються п'ятьма балами**

**11** На тарілці лежали цукерки. Половину цукерок узяв Іванко, половину того, що залишилось, – Марічка, половину того, що залишилось після Іванка і Марічки, – Олеся. На тарілці залишилось 3 цукерки. Скільки цукерок лежало на тарілці спочатку?

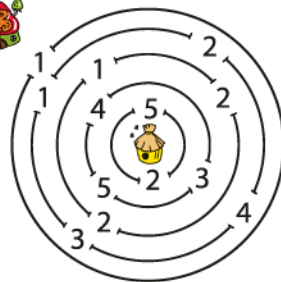


**А:** 36    **Б:** 24    **В:** 20    **Г:** 18    **Д:** 12

**12** У Марічки є 40 гривень. Який набір із трьох іграшок серед зображених у відповідях, зможе купити Марічка за ці гроші?



**13** Вінні-Пух біжить від вулика по лабіринту. На кожному проході його кусає стільки бджіл, скільки написано над проходом. Яка найменша кількість бджіл вкусить Вінні, поки той добіжить до хатки?



**А:** 6      **Б:** 7      **В:** 8      **Г:** 9      **Д:** 10

**14** Кожен із друзів-кенгурят отримав вказівку, як дійти до нового п'ятиповерхового будинку. Слово «праворуч» було замінено літерою П, а «ліворуч» – літерою Л. Яку вказівку отримав Хитрун?



**А:** ЛЛППЛ      **Б:** ЛПЛПЛ      **В:** ЛППЛП  
**Г:** ЛПЛПП      **Д:** ППЛЛП

**15** П'ятеро друзів-кенгурят оселились у новому п'ятиповерховому будинку. Відомо, що Ласунчик живе вище, ніж Веселун, Красунчик – нижче, ніж Мудрагелик, Веселун – вище, ніж Мудрагелик, Сонько – нижче, ніж Красунчик. Хто поселився на п'ятому поверсі?

**А:** Ласунчик      **Б:** Веселун      **В:** Красунчик  
**Г:** Мудрагелик      **Д:** Сонько

